

KHỞI ĐỘNG





**Nhanh tay nhận
những phần bánh
thơm ngon bằng
cách trả lời đúng
các câu hỏi sau
đây nhé!**



1

Tính: $50 + 8 - 12 = ?$

A

46

B

47



2

Tính: $85 - 25 + 26 = ?$



A

76

B

86



3

$$20 + \dots? \dots = 60$$

A

50

B

40





KẾT NỐI TRI THỨC
VỚI CUỘC SỐNG

Bài 6

Toán

LUYỆN TẬP CHUNG



School





KẾT NỐI TRI THỨC
VỚI CUỘC SỐNG

Toán

LUYỆN TẬP CHUNG

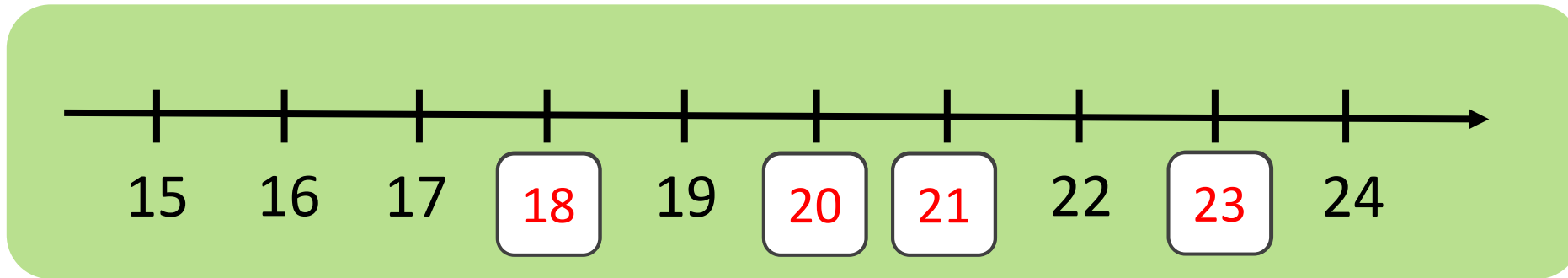




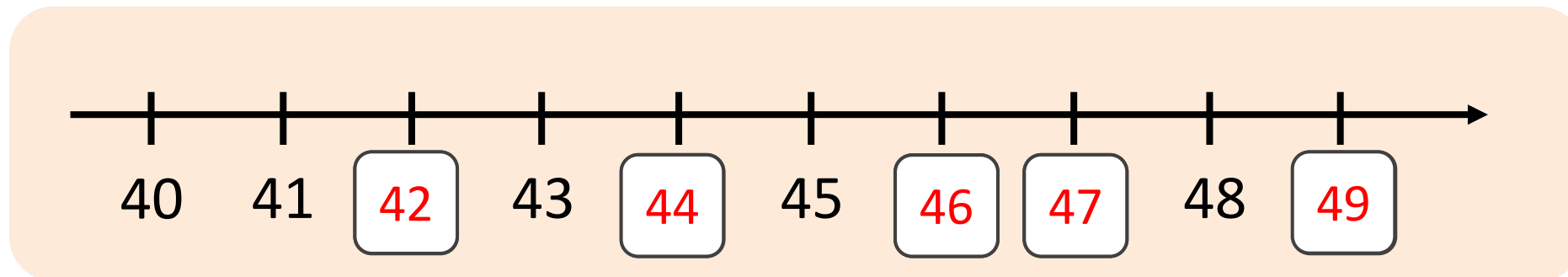
luyện tập

1 SỐ?

a)



b)



2 a) Viết mỗi số 27, 56, 95, 84, 72 thành tổng (theo mẫu):


$$\text{M: } 27 = 20 + 7$$

$$56 = 50 + 6$$

$$95 = 90 + 5$$

$$84 = 80 + 4$$

$$72 = 70 + 2$$



2 b) Số?

$$34 = 30 + \boxed{4}$$

$$34 = \boxed{30} + 4$$

$$68 = \boxed{60} + 8$$

$$89 = 80 + \boxed{9}$$

3 SỐ?

Số liền trước	Số đã cho	Số liền sau
34	35	36
39	40	41
58	59	60
76	77	78

4

B. Viết các số trên xe đua theo thứ tự từ bé đến lớn.
Đ. Viết tổng của số lớn nhất và số bé nhất trong các số trên xe đua.



Thứ tự từ bé đến lớn: + , = 69



5 Lớp 2A trồng được 29 cây, lớp 2B trồng được 25 cây.
Hỏi lớp 2A trồng được hơn lớp 2B bao nhiêu cây?

Bài giải

Lớp 2A trồng được hơn lớp 2B số cây là:

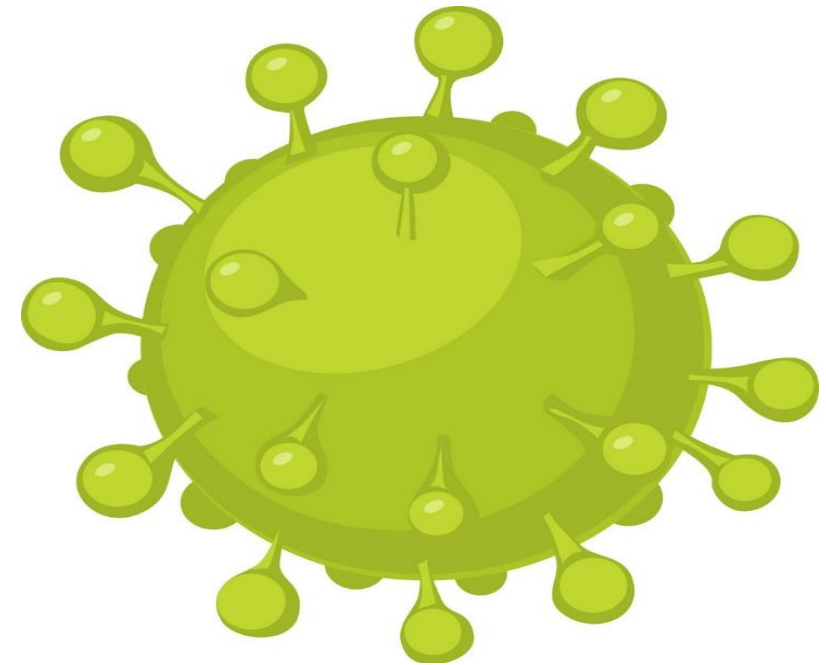
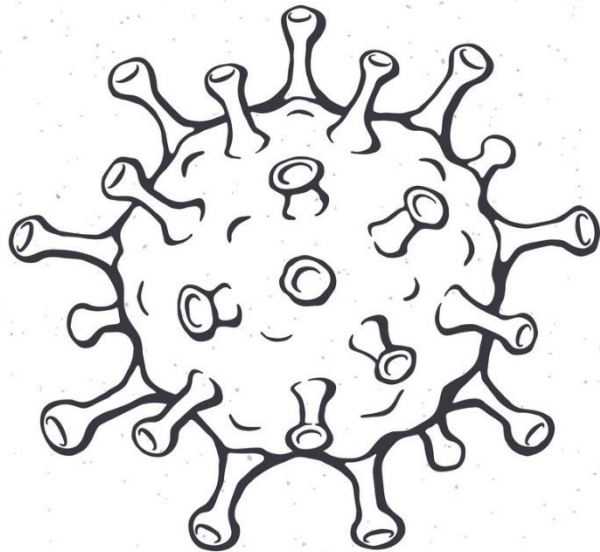

$$29 - 25 = 4 \text{ (cây)}$$

Đáp số: 4 cây.



Vận dụng

Trò chơi: “ Diệt virus”




Dặn dò

Hoàn thành
bài tập.

Chuẩn bị
bài tiếp
theo.





Chúc các
em học
tốt

